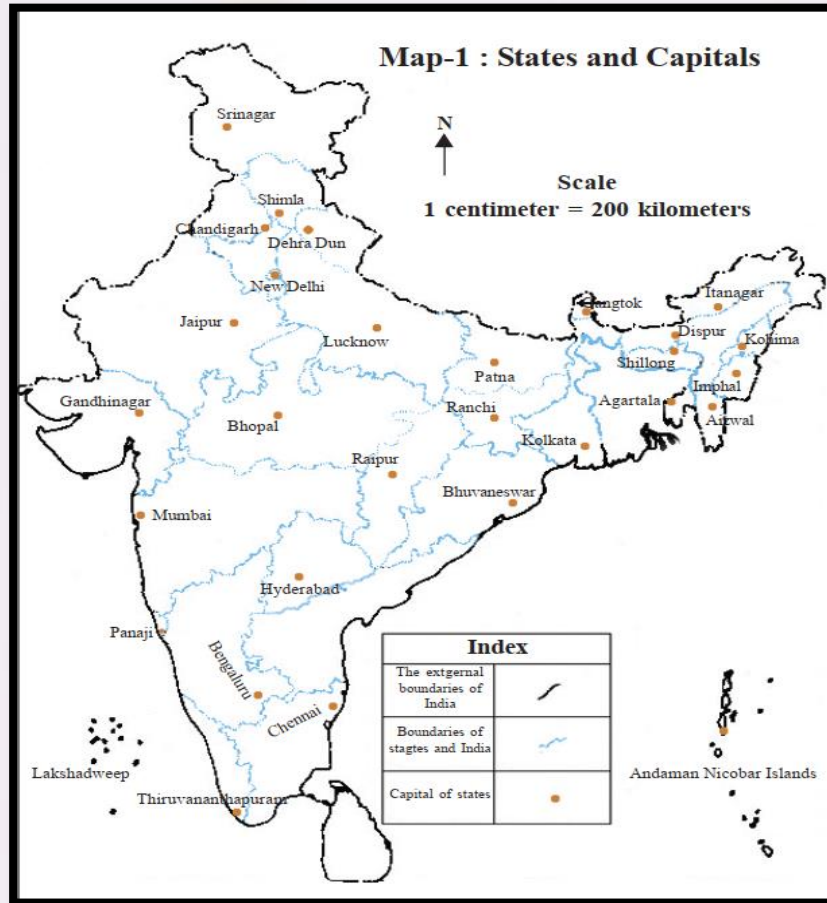




Week-1: WORK SHEET-2 **Maps (పటాలు)**

1. Read the following map and fill the following table -based scale given in the map.

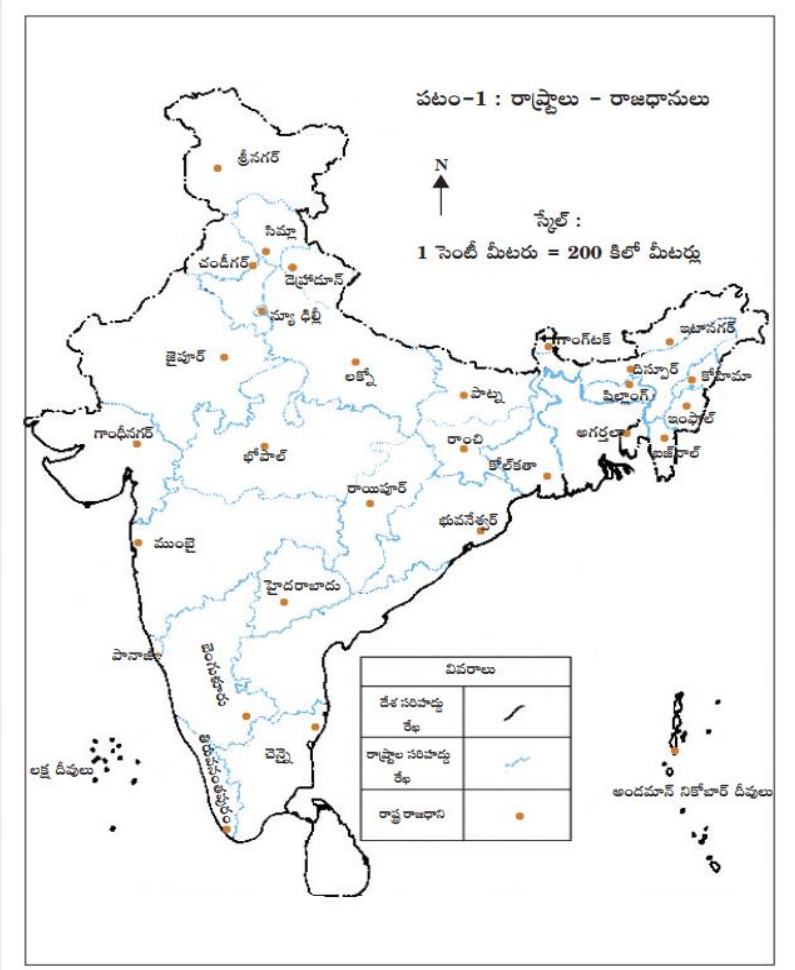


Places: From - To	Distance in the above map	Actual Distance
i. Chennai to Hyderabad	3 CM	
ii. Mumbai to Bhuvanewar	5 CM	
iii. Panaji to Thiruvananthapuram	2.5CM	
iv. Gandhinagar to Jaipur	2 CM	
v. Kolkata to Ranchi		300KM
vi. New Delhi to Kohima		2200 KM



Week-1: WORK SHEET-2 **Maps (పటాలు)**

1. దిగువ పటములోని స్థానాలు ఆధారంగా క్రింది పట్టికను పూరించండి.




ప్రదేశం: నుండి- వరకు	పటములో దూరం	వాస్తవ దూరం
i. చెన్నై నుండి హైదరాబాద్	3 సెం.మీ	
ii. ముంబై నుండి భువనేశ్వర్	5 సెం.మీ	
iii. పనాజి నుండి తిరువునంతపురం	2.5 సెం.మీ	
iv. గాంధీనగర్ నుండి జైపూర్	2 సెం.మీ	
v. కోల్ కతా నుండి రాంచి		300 కి.మీ
vi. న్యూఢిల్లీ నుండి కోహిమా		2200 కి.మీ



Week-1: WORK SHEET-2 **Maps (పటాలు)**

2. Read the following table and answer the below questions related to colours general used in a map.

Colour		Land cover/ Land use
Dark Green		Forest
Light Green		Grasslands
Brown		Land useful for agriculture
Yellow (Topographical maps)		Cropped area
Dark Grey		Mountains
Light Grey		Hills
Yellow		Plateaus & Swamps
Light Red		Wastelands
Light Blue		Tanks, Rivers, Canals, Wells etc.
Dark Blue		Seas and Oceans
White		Places where minerals are available
Black		Boundaries



- i. Dark Blue colour indicates which aspect a map?
- ii. Mountains are shown in which colour in a map?
- iii. Light green colour shows which aspect in a map?
- iv. Places where minerals are available is show in which colour in a map?



Week-1: WORK SHEET-2 **Maps (పటాలు)**

2. దిగువ పట్టికను చదివి, క్రింది ప్రశ్నలకు సమాధానాలు రాయండి.

రంగు	భూ ఆచ్ఛాదన/ భూ వినియోగం
ముదురు ఆకుపచ్చ	అడవి
లేత ఆకుపచ్చ	గడ్డి భూములు
గోధుమ/ మట్టిరంగు	వ్యవసాయానికి అనువైన భూములు
పసుపు పచ్చరంగు (నైసర్గిక పటాలు)	పంటలు సాగవుతున్న ప్రాంతం
ముదురు ఊదా	పర్వతాలు
లేత ఊదా	గుట్టలు
పసుపు పచ్చ	పీఠ భూములు, చిత్తడి భూములు
లేత ఎరుపు	బంజరు భూములు
లేత నీలం	చెరువులు, నదులు, కాలువలు, బావులు వంటివి
ముదురు నీలం	సముద్రాలు, మహాసముద్రాలు
తెలుపు	ఖనిజాలు లభ్యమయ్యే ప్రదేశాలు
నలుపు	సరిహద్దులు

- i. ఒక పటములో ముదురు నీలం రంగు ఏ అంశాన్ని తెలుపుతుంది?
- ii. పర్వతాలను పటములో ఏ రంగులో సూచిస్తారు?
- iii. పటములో లేత ఆకు పచ్చ రంగు ఏ అంశాన్ని తెలుపుతుంది?
- iv. ఖనిజాలు లభ్యమయ్యే ప్రదేశాన్ని పటములో ఏ రంగులో గుర్తిస్తారు?